

令和4年度 岡山県立興陽高等学校特別入学者選抜選択実施する検査（実技）


幼稚園児に手さげかばんを作ってプレゼントしようと考えている。問題文をよく読み、指示にしたがって答えなさい。

- 1 右図の手さげかばんを作りたい。型紙は次の(A)、(B)である。

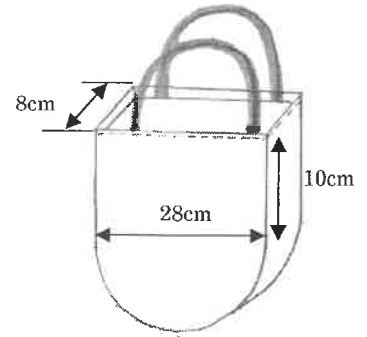
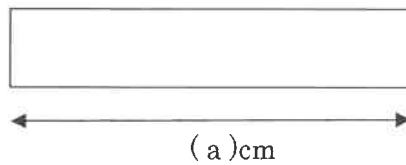
【注】型紙とは、裁断の基礎になる型に切った紙のこと。

出典：新田中千代服飾事典（同文書院）

型紙(A)



型紙(B)



手さげかばんのできあがり図

型紙(A)は、縦 10cm、横 28cm の長方形に直径 28cm の半円をつなげたものである

型紙(B)は、縦 8cm、横(a)cm の長方形である

- (1) 型紙(A)を解答用紙に作図しなさい。ただし、作図は実際の長さの60%で描くこと。

- (2) 型紙(B)を作るときに必要な長さ(a)を求めなさい。ただし、円周率は3とする。

- 2 手さげかばんの側面に、装飾をしたい。装飾の図案は、次の童謡の歌詞を参考に考えなさい。

- 1の(1)で作図した型紙の中に絵を描き、着色しなさい。

春が来た                      作詞：高野 辰之  
 はるがきた はるがきた  
 どこにきた  
 やまにきた さとにきた  
 のにもきた

- 3 2の装飾を考えると、「春」を表現するために工夫した点を2つ書きなさい。